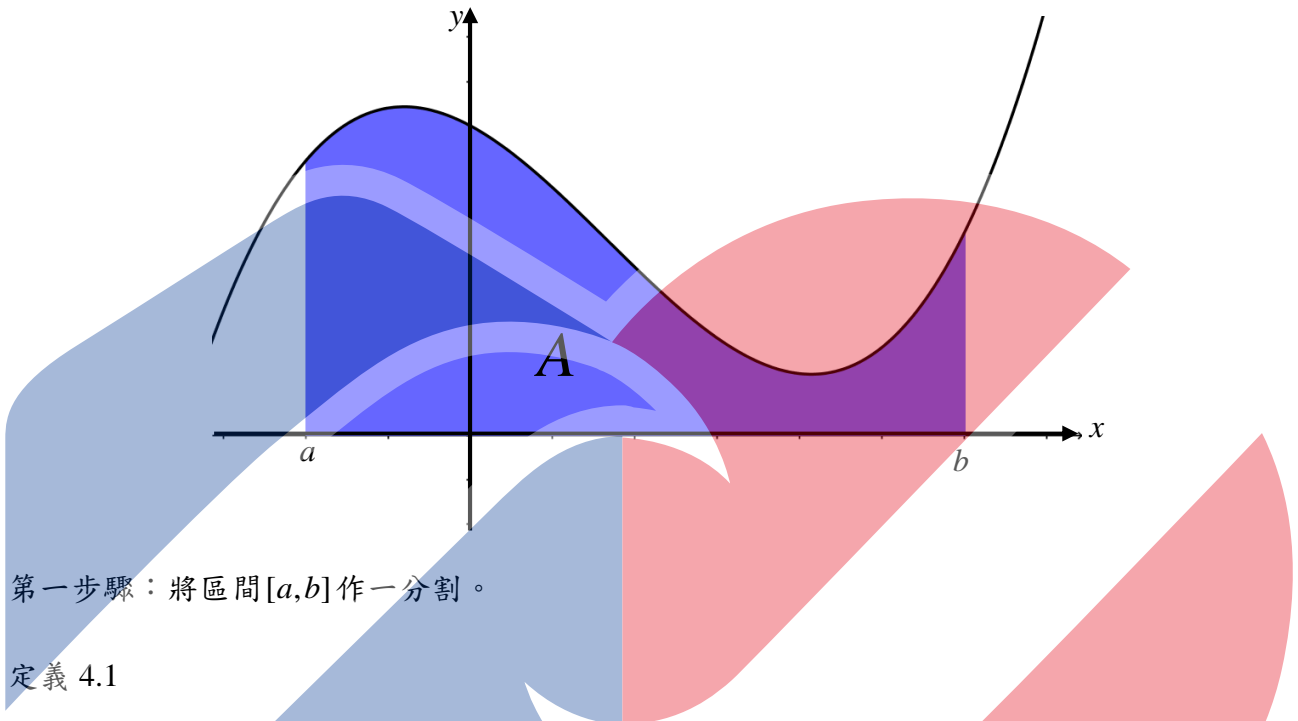


(C) 不規則面積的求法

假設 $y = f(x)$ 在區間 $[a, b]$ 為一連續且非負函數，則由曲線 $y = f(x)$ ， x 軸 ($y = 0$)，兩垂直直線 $x = a$ 及 $x = b$ 之間所圍區域的面積 A ，可以經過下面四個步驟來求得，其區域圖形如下所示。



第一步驟：將區間 $[a, b]$ 作一分割。

定義 4.1

區間 $[a, b]$ 的分割 (partition) 是將 $[a, b]$ 分成若干子區間 (subinterval)，即分點集合 $P = \{x_0, x_1, x_2, \dots, x_{n-1}, x_n \mid a = x_0 < x_1 < x_2 < \dots < x_{n-1} < x_n = b\}$ 將區間 $[a, b]$ 分成 n 個子區間 $[x_0, x_1], [x_1, x_2], \dots, [x_{n-1}, x_n]$ 。

為了方便起見，我們將區間 $[a, b]$ 分成 n 個子區間的長度是相同。所以，每一個區間長度為

$$\Delta x = x_1 - x_0 = x_2 - x_1 = \dots = x_n - x_{n-1} = \frac{b-a}{n}。$$

第二步驟：在每一子區間 $[x_{k-1}, x_k]$ 內任取一點 c_k ， $k = 1, 2, \dots, n$ 。

第三步驟：計算黎曼和 (Riemann Sum)

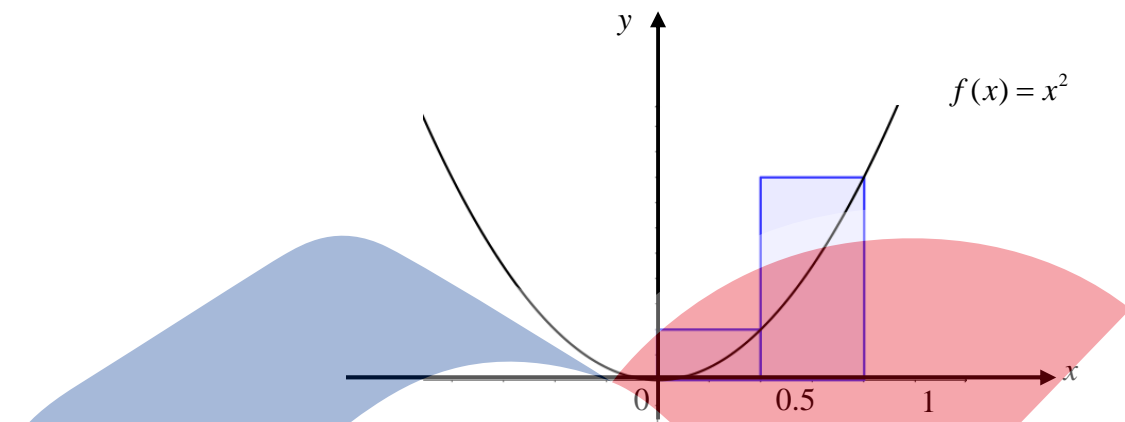
在第 k 個子區間 $[x_{k-1}, x_k]$ ，以 $f(c_k)$ 當作矩形的高度， Δx 當作矩形的寬度，則此矩形的面積為 $f(c_k)\Delta x$ ， $k = 1, 2, \dots, n$ ，則所有這些小矩形面積之和為

$$S_n = \sum_{k=1}^n f(c_k)\Delta x = \Delta x \sum_{k=1}^n f(c_k) = \frac{b-a}{n} \sum_{k=1}^n f(c_k)$$

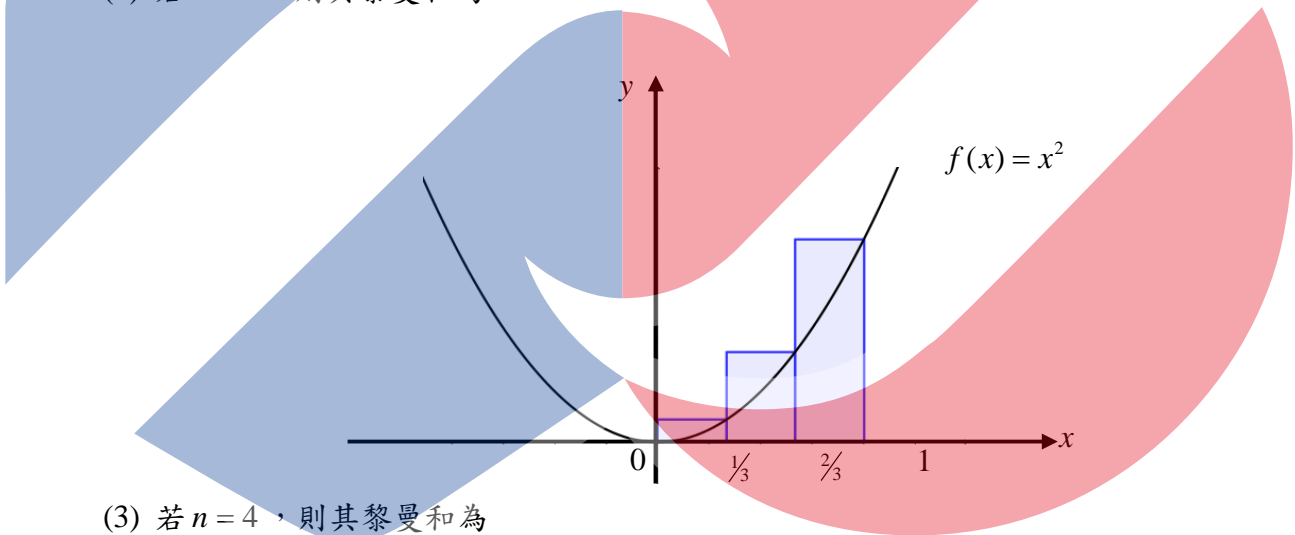
，且稱 S_n 為黎曼和。

例題 1. $f(x) = x^2$ 在 $[0,1]$ 區間為一連續且非負函數。現在 $[0,1]$ 區間做一等 n 分割後，且在第 k 子區間 $[x_{k-1}, x_k]$ 中任取一點 c_k ，令 $c_k = x_k$ ， $k = 1, 2, \dots, n$ 。

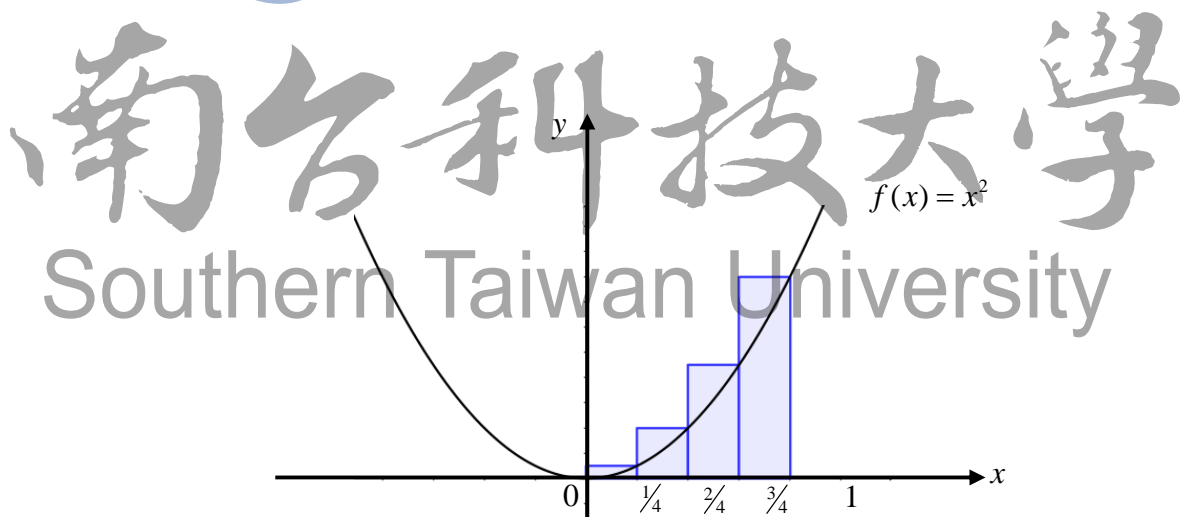
(1) 若 $n = 2$ ，則其黎曼和為



(2) 若 $n = 3$ ，則其黎曼和為



(3) 若 $n = 4$ ，則其黎曼和為



第四步驟：將黎曼和取極限


由上述例題中，我們發現當每一個分割子區間的長度變小時，其黎曼和與欲所求之面積的誤差會變小，亦即， S_n 可以當做 A 的一個近似值，而且當每一子區間之長度 Δx 趨近於 0 時

(亦即，分割數 n 趨近於 ∞)，此黎曼和的近似值就會趨近於 A 。根據這一觀察，我們可以得到以下的結果：

若 $\lim_{n \rightarrow \infty} \sum_{k=1}^n f(c_k) \Delta x$ 存在，則此極限值是所圍區域的面積。

例題 2. 試求由 $y = x^2$ ， $x = 0$ ， $x = 1$ 及 x 軸所圍區域的面積。

解：



隨堂練習：試求由 $y = x + 2$ ， $x = 0$ ， $x = 1$ 及 x 軸所圍區域的面積。

南台科技大學
Southern Taiwan University